




CORK



CRUCIGRAMA

HORIZONTALES.—A: Fonéticamente, coronas solares. Habita.—B: Al revés, donde se encierran los toros antes de salir a la plaza. Uvas ya secas.—C: Al revés, ría de España. Camino que se utiliza por ser más corto que otro.—D: Los que juntan las tablas de los barcos con breca.—E: Al revés, rapés con cierta herramienta de carpintero.—F: Inmovilizable.—G: Al revés, hace uso de alguna cosa.—H: Cierta tribu de indios americanos.—I: Cerdas.—J: Popularmente, dícese de las personas que tienen muy mala intención.—K: Cultivar la tierra. Al revés, cierto palo de la baraja.

VERTICALES.—1: Al revés, atraviesa. Matrícula de coche española. 2: Liana. Vox de mando.—3: Al revés, cierto pájaro tropical. Nota musical.—4: Al revés, guisaros de cierta manera la comida. Fonéticamente, convulsionar el diafragma.—5: Telas de seda muy delgadas.—6: Unió. le con las manos.—7: Donde se llevan a cabo las ejecuciones.—8: Qué-téla la vida. Tuestes.—9: Atraverse. Letra griega.—10: Hago una incisión en la madera. Terminación verbal.—11: Al revés, julsulsa. Palabra que se emplea para detener a las caballerías.

SIGNOGRAMA

SIGNOGRAMA n.º T 30

4	x		:		=8
-		+		x	
	x		-		=3
+		+	:		
	+		-		=1
=2		=6		=6	

JEROGLIFICO



—¿Es un pinchazo?

PROBLEMAS DE INGENIO

- Una sala tiene 8 metros de longitud, 5 de anchura y 4 de altura. Las dos caras de la puerta de entrada tienen, en junto, una superficie de 7,50 metros cuadrados. Hállese lo que costará en total lo siguiente: solado del piso a 30 pesetas el metro cuadrado, pintura de las paredes a 5 pesetas el metro cuadrado y pintura de las dos caras de la puerta de entrada a 10 pesetas el metro cuadrado, pintura del techo a 6 pesetas el metro cuadrado.
- Hállese el coste de labrar una piedra cúbica de 28 centímetros de arista, a razón de 400 pesetas el metro cuadrado.
- El propietario de una finca rectangular de 2,5 kilómetros de largo por 22 hectómetros de ancho encarga la construcción de tres caminos en el sentido del ancho y cuatro en el sentido del largo de 2 metros de anchura. ¿Cuánto deberá pagar en total si le cobran 35 pesetas por metro cuadrado de camino?